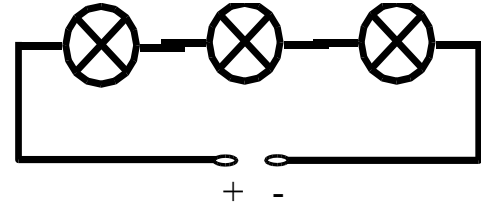
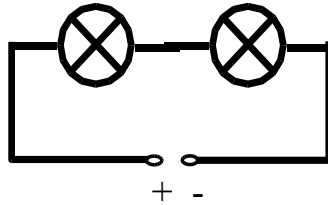
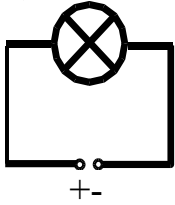


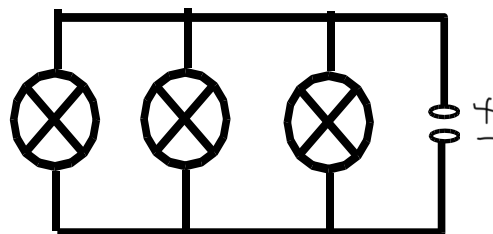
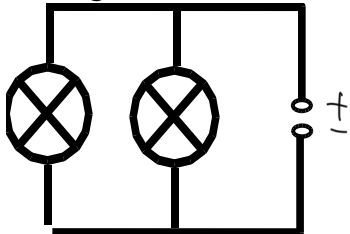
Reihen- und Parallelschaltung von Glühlampen

Baue folgende Schaltungen nach und beschreibe die jeweilige Helligkeit der Lampen!

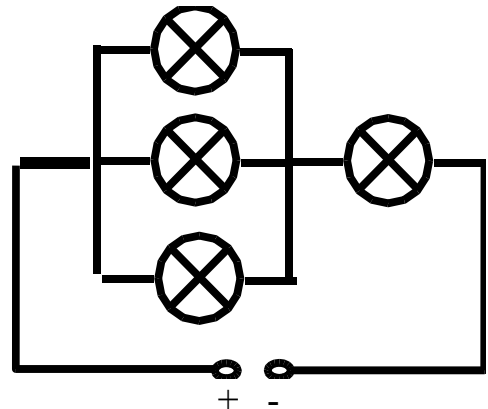
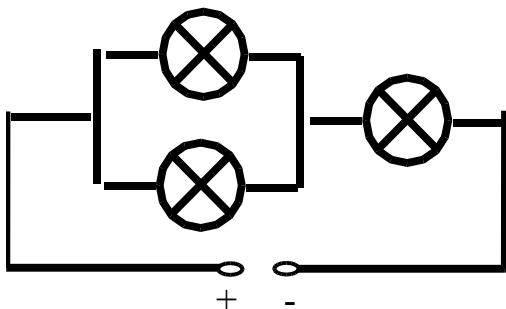
1) Reihenschaltungen:



2) Parallelschaltungen:



3) gemischte Schaltungen:



Ergebnis:

Fließt der Strom nacheinander durch verschiedene Lampen (Reihenschaltung), so

Fließt der Strom gleichzeitig durch verschiedene Lampen (Parallelschaltung), so

In einer Verzweigung
